



3. ročník - cvičný test (1. pololetí)

JMÉNO

1. Do notové osnovy napiš houslový klíč, stupnici **a moll harmonickou**, její kvintakord a jeho obraty.



2. Do notové osnovy napiš **basový** klíč a noty **c¹** až **G** (velké).




3. Napiš houslový klíč a od daných tónů utvoř intervaly.



d ¹	a ¹	f ¹	g ¹
č. 5	v. 2	č. 8	v. 3

4. Do notové osnovy napiš houslový klíč a předznamenání stupnic.



E DUR

ES DUR

B DUR

D DUR

5. Jak dělíme mollové stupnice?