

4. ročník - cvičný test (1.pololetí)


JMÉNO

1. Napiš houslový klíč a od daných tónů utvoř intervaly.




d ¹	g ¹	e ¹	g ¹	h ¹
m.3	zv.4	v.3	m.2	č.5

2. Napiš houslový klíč a od tónu c¹ utvoř následující kvintakordy.




durový	mollový	zvětšený	zmenšený
---------------	----------------	-----------------	-----------------

3. Napiš stupnici E DUR a její základní harmonické funkce v kvintakordech za stupnicí:



4. Vysvětli, co je to enharmonická záměna. Do osnovy zapiš dva příklady:



5. Vysvětli pojmy konsonance a disonance: