



3. ročník - cvičný test (2.pololetí)

JMÉNO

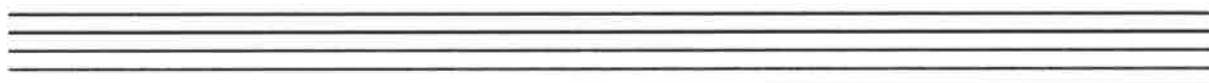
1. Do notové osnovy napiš houslový klíč, stupnici **d moll harmonickou**, její kvintakord a jeho obraty.



2. Do notové osnovy napiš houslový klíč, stupnici E DUR a vyznač, na kterých tónech stupnice leží základní harmonické funkce.

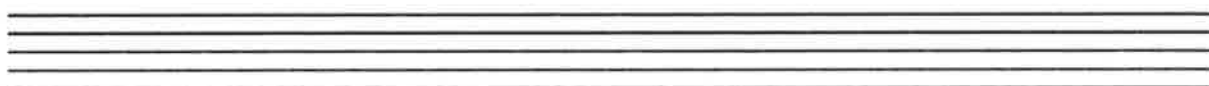


3. Napiš houslový klíč a od daných tónů utvoř intervaly.



d^1	f^1	e^1	es^1
č. 5	zv. 5	zm. 4	č.8

4. Do notové osnovy napiš houslový klíč a předznamenání stupnic.



H DUR

g moll

h moll

AS DUR

5. Ke každé skupině hudebních nástrojů napiš alespoň tři příklady hud. nástrojů:

Dechové dřevěné:

Dechové žesťové: